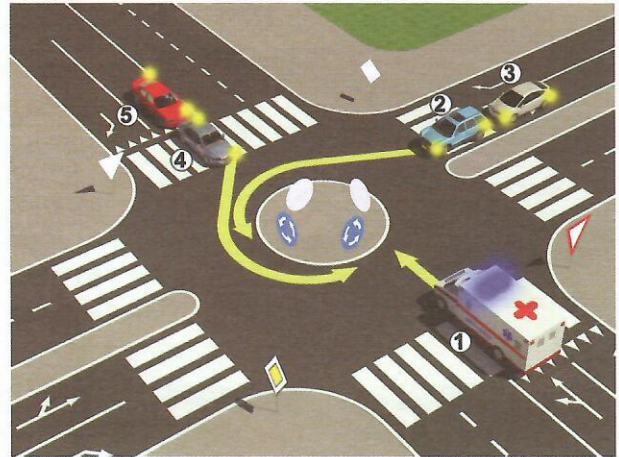



24.-25. У поља испод слике упиши бројеве који се налазе поред возила, по редоследу како пролазе раскрсницу:



5

5


26. У квадратић испод сваког саобраћајног знака уписати редни број који је испред описа његовог значења:



2




2



2



2



2



2



2



2



2



2

1. Прелаз пута преко железничке пруге без браника или полубраника
2. Радови на путу
3. Трамвајска станица
4. Опасност од пожара
5. Забрана саобраћаја возилима која превозе експлозив или лако запаљиве материје
6. Спојене стазе за бициклисте и пешаке

7. Андрејин крст
8. Саобраћај у оба смера
9. Трамвајска пруга
10. Обавезан смер лево
11. Првенство пролаза за возила из супротног смера
12. Забрана паркирања
13. Забрана саобраћаја возилима која превозе опане терете
14. Обавезно обилажење са леве стране

НАШИ ПРИЈАТЕЉИ!

(Стартни број)

(Назив-разред/школа/екипа)

100- **Негативних** Поена = **УКУПНО** Поена



CIP - Каталогизација у публикацији
Народна библиотека Србије, Београд

ISBN:
COBISS.SR-ID